



แบบฝึกหัด 2.5

1 วาดรูปและเติมคำตอบใน

1) แมลงเต่าทอง 3 ตัวกับแมลงปอ 5 ตัว มีแมลงทั้งหมด 8 ตัว



3 + 5 = 8

2) มีกระต่าย 4 ตัว กระโดดเข้ามาอีก 2 ตัว มีกระต่ายทั้งหมด 6 ตัว



4 + 2 = 6

3) ดอกกุหลาบแดง 5 ดอก กับดอกกุหลาบชมพู 3 ดอก มีดอกกุหลาบทั้งหมด 8 ดอก



5 + 3 = 8



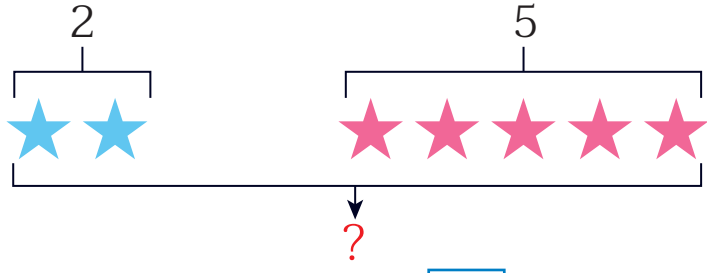
๒ หาผลบวกโดยการวาดรูป

โจทย์	ภาพ
1) $2 + 4 = \square$	
2) $5 + 1 = \square$	
3) $0 + 6 = \square$	
4) $1 + 7 = \square$	



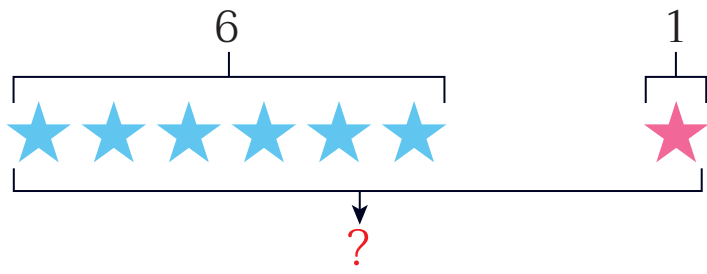
๓ เติมจำนวนใน

1)



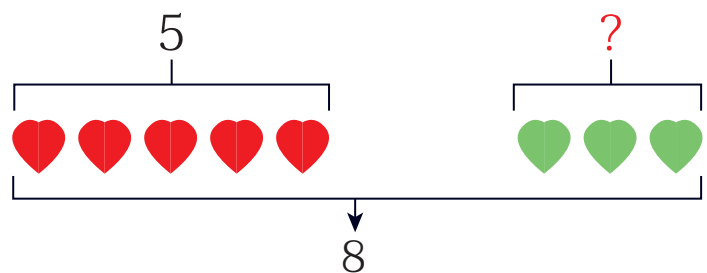
$2 + 5 = 7$

2)



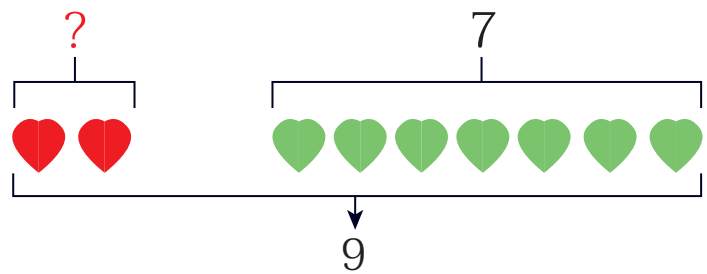
$6 + 1 = 7$

3)



$5 + 3 = 8$

4)



$2 + 7 = 9$